











Всероссийская олимпиада школьников по обществознанию
2023-2024 учебный год

ШКОЛЬНЫЙ ЭТАП
8 класс

Время выполнения - 45 минут

Максимально возможное количество баллов за выполненную работу – 84

Задание 1. Придумайте названия таблице и всем ее ячейкам.

<i>Название:</i>	
<p><i>Название:</i></p>  	<p><i>Название:</i></p>  
	<p><i>Название:</i></p>
<p><i>Название:</i></p>   	<p><i>Название:</i></p>  

Как называется процесс, обозначенный стрелками в центре таблицы?

Ответ: _____

За каждый правильный ответ 2 балла. Максимальное количество баллов за задание -12.

Задание 2. Выберите правильный ответ из предложенных вариантов и запишите букву, под которой он указан, в таблицу.

2.1. Что отличает право от других социальных норм?

- а) регулирование поведения людей
- б) установление государством
- в) непрерывное действие во времени
- г) опора на представление о добре и зле

2.2. Укажите пример нарушения норм морали:

- а) дети долго не навещали своих пожилых родителей
- б) сотрудник фирмы подделал подпись на документе
- в) гражданин не заплатил налоги
- г) водитель не уступил дорогу пешеходу

2.3. Доход семьи -это

- а) иностранная валюта
- б) купленные в течение года товары и оплаченные услуги
- в) поступления денежных и натуральных средств за определенный промежуток времени
- г) полученное наследство

2.4. Прибыль компании определяется как:

- а) сумма выручки и затрат;
- б) разность затрат и выручки;
- в) разность выручки и затрат;
- г) выручка.

2.5. Заработная плата гражданина А. на 3 тысячи рублей выше зарплаты гражданина Б. Какую функцию выполняют деньги в данном случае?

- а) средство обращения
- б) мера стоимости
- в) средство платежа
- г) средство накопления
- д) мировые деньги.

2.6. Конституция РФ провозглашает Российскую Федерацию светским государством, что означает:

- а) равенство народов на территории РФ;
- б) отделение церкви от государства;
- в) соблюдение прав человека;
- г) обеспечение достойного уровня жизни населения.

2.7. Из перечисленного бизнесом можно назвать:

- а) выращивание клубники на дачном участке для семейного потребления;
- б) помощь взрослого сына пожилым родителям;
- в) оказание банковских услуг;
- г) ведение натурального хозяйства.

2.8. К конституционным обязанностям гражданина РФ относится

- а) защита Отечества;
- б) участие в управлении делами государства;
- в) выбор рода деятельности и профессии;
- г) соблюдение традиций и обычаев.

2.9. Какое из перечисленных благ НЕ относится к экономическому?

- а) книжный шкаф;
- б) проезд в маршрутном такси;
- в) жилой дом;
- г) цветок, выращенный в оранжерее;
- д) вода из ручья в горах.

2.10. Закон предусматривает наказание за нарушение:

- а) обрядов; б) традиций; в) правовых норм; г) этикета.

Ответ:

2.1.	2.2.	2.3.	2.4.	2.5.	2.6.	2.7	2.8	2.9	2.10

За каждый правильный ответ - 1 балл. Максимальное количество баллов за задание -10.

Задание 3. Решите экономическую задачу.

Ученик 7-го класса Игорь зашёл в магазин и очень удивился. Литровая бутылка сока «Школьный» стоила 100 рублей, а двухлитровая – всего 180 рублей. Игорь решил: «Наверное, у производителей серьёзные проблемы с арифметикой! Иначе как такое возможно?» **Объясните, в чем экономический смысл у производителей поступать таким образом? Возможны два варианта объяснения.**

Ответ:

За каждый правильный ответ - 3 балла. Максимальное количество баллов за задание -6.

Задание 4. Назовите понятие, общее для приведенных ниже терминов. Укажите, какой из терминов является лишним, то есть выпадает из данного перечня.

а) Прокуратура, Министерство обороны, полиция, Федеральная служба безопасности, таможенная служба.

Ответ: _____

б) Право, этикет, мораль, традиции, инструкция по эксплуатации бытовой техники, обычай.

Ответ: _____

в) Город федерального значения, область, край, республика, район, автономный округ, автономная область

Ответ: _____

За каждый правильный ответ - 2 балла. (1 балл за указанное общее понятие, 1 балл – за указание лишнего).
Максимальное количество баллов за задание -6.

Задание 5. Ученик попросил друга проверить его реферат, выделить все допущенные ошибки и пронумеровать их. Друг оказался не на высоте : ошибок он обнаружил больше имеющихся, выделив их курсивом. Прочитайте текст и определите, какое содержащееся в работе утверждение верно, а какое ошибочно. Кратко объясните, в чем ошибка.

Отличительные особенности родительских прав заключаются в том, что, во-первых, *они одновременно являются и обязанностями родителей* (1). Во-вторых, *объем прав каждого из родителей зависит от возраста ребенка* (2) В первые 5 лет жизни ребенка, когда он наиболее нуждается в материнской заботе, *больше прав закон предоставляет матери, а впоследствии права родителей равны.*(3)

Третья особенность родительских прав: *они бессрочны* (4). И наконец, в-четвертых, при осуществлении родительских прав и обязанностей *должны сочетаться интересы родителей и детей* (5). Согласно Семейному кодексу РФ, родители свободны в выборе средств и методов воспитания, однако *пределы родительских прав ограничены целью воспитания* (6): заботой о здоровье, физическом, психическом, духовном и нравственном развитии ребенка.

Ответ:

№	верно/неверно	если неверно - в чем ошибка? Как правильно?
1		
2		
3		
4		
5		
6		

За каждый правильный ответ - 1 балл, за правильное объяснение - 2 балла. Максимальное количество баллов за задание – 12.

Задание 6. Вставьте пропущенные слова.

1) В утверждении римского философа Сенеки: «Стыд запрещает порою то, чего не запрещают законы», — идет речь о различии _____ и _____ норм.

2) Французский мыслитель Вольтер, утверждая: «Свобода состоит в том, чтобы зависеть только от законов», — выступал сторонником _____ государства.

За каждый правильный ответ - 2 балла. Максимальное количество баллов за задание - 6.

Задание 7. Выберите верные утверждения, которые соответствуют содержанию приведённой картины Л.К. Плахова «В бондарной мастерской». Запишите цифры, под которыми они указаны.



1. Картина иллюстрирует рекреационную функцию семьи.
2. Изображённые на картине отношения в настоящее время регулируются нормами трудового права.
3. Деятельность, представленная на картине, является характерной для индустриального общества.
4. Результатом вида деятельности, осуществляемого изображёнными на картине людьми, является создание материальных благ.
5. Развитие вида деятельности, осуществляемого изображёнными на картине людьми, способствовало развитию обмена и торговли.
6. Важную роль в приобретении профессиональных навыков в исторический период, отражённый на картине, играли традиции наставничества, а не система государственного профессионального образования.
7. На изображённых на картине предприятиях действовал запрет на детский труд.
8. В обществе, для которого характерна показанная на картине деятельность, преобладало натуральное хозяйство.

Ответ: _____

За каждый правильный вариант ответа - 2 балла

Задание 8. Решите правовые задачи.

8.1. Сергею 10 лет. На его день рождения дедушка подарил ему компьютер последней модели. На семейном совете было принято решение, что пользоваться им Сергей будет самостоятельно.

Может ли Сергей продать компьютер, если захочет? Ответ обоснуйте.

Ответ: _____

8.2. 14-летний Володя нашёл в Интернете объявление о вакансии почтальона на летний период. Его папа разрешил ему работать, а мама своего согласия не давала.

Может ли Володя устроиться на работу? Ответ обоснуйте.

Ответ: _____

За каждый правильный ответ - 2 балла, обоснование - 3 балла. Максимальное количество баллов за задание - 10.

Задание 9.

Ниже приведены высказывания известных мыслителей прошлого, касающиеся одного и того же понятия. Определите пропущенное понятие (в тексте оно обозначено как XXX; возможны вариации изменяемых частей данного слова). Высказывание какого из указанных мыслителей вам кажется наиболее важным и интересным? Почему? (2–3 предложения).

9.1. «Чрезмерное обилие XXX распыляет мысли» (Сенека Луций младший).

9.2. «Нет таких XXX, у которых нельзя было бы чему-нибудь поучиться» (Симон Будный).

9.3. «О каждой XXX можно сказать, что она предназначена всем и никому» (Ханс Георг Гадамер).

9.5 «Уединение с XXX лучше общества с глупцами» (Пьер Буаст).

Ответ: _____

Пояснение: _____

За правильный ответ – 2 балла

За обоснование - 4 балла.. Максимальное количество баллов за задание -6.

Задание 10. Ниже вы видите изображения гербов четырех субъектов Красноярского края, отражающие их природные, исторические и экономические особенности.

№1 – Герб Енисейского района. Зеленый цвет поля (слева и справа) символизирует весну, здоровье, плодородие и богатство территории района. Расположение голубого столба в середине герба указывает на расположение земель района по обеим сторонам Енисея. Соболи и стрела на гербе Енисейского района - символ связи с прошлым – освоением сибирских просторов в 16-17 веках. Стрела в гербе Енисейского района, направленная вниз – символ мира.



№1

Укажите герб Емельяновского района, кратко объяснив свой выбор. (4 балла)

Как вы думаете, каким городам Красноярского края принадлежат еще два герба? (по 2 балла за каждый правильный ответ)



№2



№3



№4

Ответ: _____

Максимальное количество баллов за задание -8.